

ГЕОГРАФИЈА 8

ИНИЦИЈАЛНИ ТЕСТ

ПРЕДЛОЗИ
МАТЕРИЈАЛА
У ОКВИРУ
ПРИРУЧНИКА ЗА
НАСТАВНИКЕ

Име и презиме

Одељење

Датум

1. Заокружи слово испред тачног одговора.

Географија је:

- а) природна наука
- б) друштвена наука
- в) природна и друштвена наука

2. Заокружи слово испред тачног одговора.

Која од наведених географских дисциплина не припада друштвеној географији?

- а) политичка географија
- б) географија становништва
- в) регионална географија
- г) географија насеља

3. Допуни реченицу.

Демографија је наука која проучава _____.

4. Заокружи слово испред тачног одговора.

Који од наведених елемената карте нису математички?

- а) размер карте
- б) рељеф
- в) картографска мрежа
- г) легенда

5. Заокружи слово испред тачног одговора.

На ком континенту живи највише становника?

- а) Африка
- б) Европа
- в) Азија
- г) Северна Америка

6. Заокружи слово испред тачног одговора.

Природни прираштај је:

- а) разлика између густине насељености и наталитета
- б) разлика између морталитета и фертилитета
- в) разлика између наталитета и морталитета

7. Заокружи слово испред тачног одговора.

Који народ припада европеидној (белој) раси?

- а) Јапанци
- б) Арапи
- в) Кинези
- г) Корејци

ГЕОГРАФИЈА 8

ИНИЦИЈАЛНИ ТЕСТ

8. Допуни реченицу.

Процес ширења и развијања градова назива се _____.

9. Заокружи слово испред тачног одговора.

Мегалополиси настају:

- а) спајањем више конурбација
- б) спајањем више градова
- в) спајањем више села
- г) развијањем градских језгара

10. Заокружи слово испред тачног одговора.

Међу понуђеним привредним делатностима издвој ону која припада секундарном сектору привреде.

- а) саобраћај
- б) пољопривреда
- в) туризам
- г) индустрија

11. Допуни реченицу.

Највећа држава света, са површином од 17 милиона км² која се налази на истоку Европе и северу Азије јесте _____.

—

12. Заокружи слово испред тачног одговора.

По облику владавине државе могу бити републике и монархије. Од наведених држава Европе издвој једну која је република.

- а) Шпанија
- б) Италија
- в) Шведска
- г) Норвешка

13. Допуни реченицу.

Највећа низија у Европи је _____ низија.

14. Допуни реченицу.

На граници Европе и Азије налази се планински венац _____, са највишим врхом Европе који се зове _____.

15. Допуни реченицу.

Највећи део Европе налази се у _____ топлотном појасу.


16. Заокружи слово испред тачног одговора.

Међу наведеним државама издвој чланицу ЕУ.

- а) Швајцарска
- б) Србија
- в) Хрватска
- г) Норвешка

КОНТРОЛНИ ЗАДАТАК

**ГЕОГРАФСКИ ПОЛОЖАЈ, ВЕЛИЧИНА
И ГРАНИЦЕ СРБИЈЕ**

Име и презиме ученика:	Разред и одељење:	Датум:
<p>1. Подвуци тачну тврдњу.</p> <p>а) Република Србија је постала самостална држава у: 7. веку; 14. веку; 21. веку.</p> <p>б) Коридор 7 је пловни пут, део речно-каналског система: Рајна –Мајна–Дунав; Рајна–Висла–Сава.</p>		<p>___ / 2</p>
<p>2. Прецртај погрешне речи да добијеш тачне тврдње.</p> <p>Република Србија се граничи са 3/4 државе које су чланице ЕУ.</p> <p>Највећи део државне границе Србије јесте сувоземни/водни и природни/вештачки.</p>		<p>___ / 3</p>
<p>3. Повежи појмове у левој колони с објашњењем у десној колони, тако што ћеш на празне линије уписати одговарајуће слово.</p> <p>Коридор 10 _____ а) најзападнија тачка Србије ISRBC _____ б) друмско-железнички коридор Бачки Брег _____ в) најсевернија тачка Србије г) Међународна комисија за слив реке Саве</p>		<p>___ / 3</p>
<p>4. На немој карти упиши називе држава с којима се Република Србија граничи на западу и југоистоку.</p> <div style="text-align: center;">  </div>		<p>___ / 3</p>


КОНТРОЛНИ ЗАДАТАК

**ГЕОГРАФСКИ ПОЛОЖАЈ, ВЕЛИЧИНА
И ГРАНИЦЕ СРБИЈЕ**

<p>5. Наведи назив највеће и најмање административне целине у Републици Србији.</p> <p>Најмања целина: _____</p> <p>Највећа целина: _____</p>	<p>___ / 2</p>
<p>6. Одлучио/-ла си да овог лета отпутујеш у Републику Грчку. Кренуо/-ла си из Београда и користиш Коридор 10. Кроз који град у Србији ћеш проћи и где идеш на летовање у Грчкој?</p> <p>Град у Србији је _____, а дестинација у Грчкој је _____.</p>	<p>___ / 2</p>
<p>7. Прецртај погрешне речи да добијеш тачне тврдње.</p> <p>Општина је основна/највећа територијална јединица у којој се остварује локална самоуправа. Она има најмање/највише 10.000 становника.</p>	<p>___ / 2</p>
<p>8. Објасни функционалну разлику између Народне скупштине и председника државе у Републици Србији.</p> <p>_____</p> <p>_____</p> <p>_____</p>	<p>___ / 2</p>
<p>Саобраћајно-географски положај Републике Србије је изузетно повољан. Шта доприноси његовом значају?</p> <p>_____</p> <p>_____</p> <p>_____</p>	<p>___ / 2</p>
<p>9. Допуни реченице траженим појмовима.</p> <p>Устав је највиши правни акт једне државе. Уставом Србије је утврђено да је химна наше земље _____. Застава има боје (одозго надоле): _____, _____ и _____, а на грбу доминира _____.</p>	<p>___ / 5</p>
<p>СКАЛА ЗА БОДОВАЊЕ:</p> <p>Недовољан (1): < 10</p> <p>Довољан (2): 11–14</p> <p>Добар(3): 15–18</p> <p>Врло добар (4): 19–22</p> <p>Одличан (5): 23–26</p>	<p>Укупно бодова: ___ / 26</p> <p>ОЦЕНА:</p>

КОНТРОЛНИ ЗАДАТАК

**ГЕОГРАФСКИ ПОЛОЖАЈ, ВЕЛИЧИНА
И ГРАНИЦЕ СРБИЈЕ**

Име и презиме ученика:	Разред и одељење:	Датум израде:
<p>1. Заокружи слова испред тачних тврдњи.</p> <p>а) Република Србија је држава која се налази у Западној Европи. б) Географски центар Републике Србије јесте село Драча. в) Границе према Мађарској и Хрватској су делом вештачке.</p>		<p>___ / 2</p>
<p>2. Допуни реченице појмовима који недостају.</p> <p>Најдужа граница Републике Србије јесте према _____, а најкраћа према _____.</p> <p>Срби су се населили на _____ полуострву почетком _____ века.</p>		<p>___ / 4</p>
<p>3. Ако је тврдња тачна, заокружи слово Т, а ако је нетачна, заокружи слово Н.</p> <p>а) Република Србија се налази у северном умереном појасу. Т Н б) Према државном уређењу, Република Србија је монархија. Т Н в) АП Војводина се налази у јужном делу Републике Србије. Т Н</p>		<p>___ / 3</p>
<p>4. На некој карти подебљај плавом бојицом и напиши називе река које представљају северну границу Балканског полуострва.</p> <div style="text-align: center;">  </div>		<p>___ / 3</p>

КОНТРОЛНИ ЗАДАТАК

**ГЕОГРАФСКИ ПОЛОЖАЈ, ВЕЛИЧИНА
И ГРАНИЦЕ СРБИЈЕ**

<p>5. С којом се бишом југословенском републиком Србија није граничила док су биле део СФРЈ?</p> <p>_____</p>	<p>___ / 1</p>
<p>6. Пловећи Дунавом из Београда према западу, доћи ћеш до обале Северног мора, а пловећи на исток – до обале Црног мора. Које велике луке се налазе на обалама наведених мора?</p> <p>Лука на обали Северног мора јесте _____, а на обали Црног мора _____.</p>	<p>___ / 2</p>
<p>7. Прецртај погрешне речи да добијеш тачне тврдње.</p> <p>Република Србија је балканска/уралска држава. Њена најисточнија тачка је врх Сребрна глава, који се налази на Копаонику/Старој планини.</p>	<p>___ / 2</p>
<p>8. Објасни значај 45. паралеле за Републику Србију.</p> <p>_____</p> <p>_____</p> <p>_____</p> <p>_____</p>	<p>___ / 2</p>
<p>9. У последњој деценији 20. века дошло је до распада СФРЈ. Који је био узрок распада те државе, а које последице?</p> <p>_____</p> <p>_____</p> <p>_____</p>	<p>___ / 2</p>
<p>10. Допуни реченице да добијеш тачне тврдње.</p> <p>Република Србија захвата површину од _____ km².</p> <p>_____ је највиши суд у Србији.</p> <p>Председник се бира на _____. На челу Владе РС налази се _____, а овај орган власти бира _____ РС.</p>	<p>___ / 5</p>
<p>СКАЛА ЗА БОДОВАЊЕ:</p> <p>Недовољан (1): < 10</p> <p>Довољан (2): 11–14</p> <p>Добар(3): 15–18</p> <p>Врло добар (4): 19–22</p> <p>Одличан (5): 23–26</p>	<p>Укупно бодова: ___ / 26</p> <p>ОЦЕНА:</p>

Име и презиме _____

Одељење _____

1. Допуни започете реченице.

- а) Југоисточна Европа представља спону, мост између два континента, а то су _____ и _____.
- б) Срби су се на Балканско полуострво доселили почетком ____ века, на територију која је у то време била под влашћу _____.
- в) Највећу територију средњовековна српска држава достиже у 14. веку, за време владавине _____.

2. Означена држава на некој карти Европе називала се _____



3. Заокружи слово испред тачног одговора. Након распада СФРЈ, Србија поново постаје независна држава:

- а) 2005. године,
б) 2006. године,
в) 2007. године.

4. Уколико је тврдња тачна, на линију упиши слово Т, а уколико је нетачна, упиши слово Н.

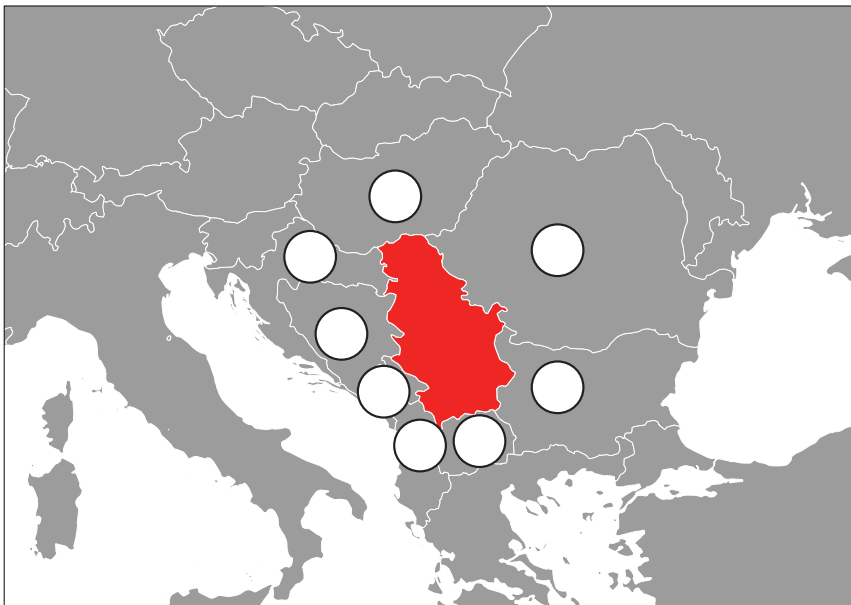
- а) Математичко-географски положај одређује се на основу географске ширине и надморске висине. ____
- б) Србија се налази у центру северног умереног топлотног појаса. ____
- в) Географска дужина се користи за одређивање часовних зона. ____
- г) Наша земља се налази у западноевропској часовној зони. ____

5. Једна од две подебљане речи у наведеним реченицама је тачна. Подвуци је.



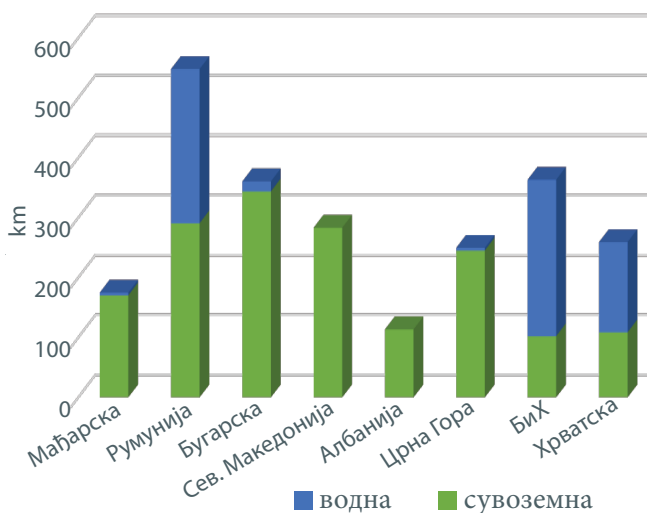
- а) Србија је по свом географском положају **приморска/континентална** земља.
- б) Кроз Србију протиче **Дунав/Рајна**, велика европска река.
- в) Већи део Србије налази се **на Балканском полуострву / у Панонској низији**.
- г) Србија **се граничи / не граничи** са чланицама Европске уније.

6. На приложеној немој карти упиши у празна поља одговарајуће бројеве држава с којима се граничи наша земља.



1. Мађарска 2. Црна Гора 3. Бугарска 4. Албанија
5. Хрватска 6. Румунија 7. Северна Македонија
8. Босна и Херцеговина

7. На приказаном графикону је представљен однос сувоземних и водних граница Србије. Проучи га, па заокружи слово испред тачног одговора.



Србија има најдужу границу са:

- а) Бугарском, б) Мађарском, в) Румунијом.

8. Уколико је тврдња тачна, на линију упиши слово Т, а уколико је нетачна, упиши слово Н.

- а) Србија се граничи са осам земаља. ____
- б) Границе наше земље су копнене и ваздушне. ____
- в) Најпрометнији гранични прелази налазе се на Коридору 10. ____
- г) Наша земља је административно подељена на 4 целине: Централну и јужну Србију, и аутономне покрајине Војводина и Косово и Метохија. ____

9. Заокружи имена река које представљају границу наше земље са суседима.

ДУНАВ

ВЕЛИКА МОРАВА

ДРИНА

ТИСА

10. Повежи симболе наше земље са њиховим објашњењима тако што ћеш на линију уписати одговарајуће слово.

а) грб _____ хоризонтална тробојка

б) застава _____ „Боже правде”

в) химна _____ велики и мали